

سوالات آیین نامه اصلی سایت همیار دانشجو

۲- در چه فاصله ای از پیچ ها دور زدن ممنوع می باشد؟

- الف) ۱۰۰ متری
- ب) ۱۵۰ متری
- ج) ۲۰۰ متری
- د) ۲۵۰ متری

۱- در شرایط غیرعادی مانند مواقع بارندگی و یخبندان و سرما، کنترل و

هدایت و توقف اتومبیل به کدام دلیل مشکل است؟

- الف) به لحاظ کاهش ضریب اصطکاک چرخ ها
- ب) به سبب لغزندگی راه ها
- ج) به لحاظ سرمای هوا و خارج شدن لاستیک ها از حالت طبیعی
- د) الف و ب هر دو صحیح است.

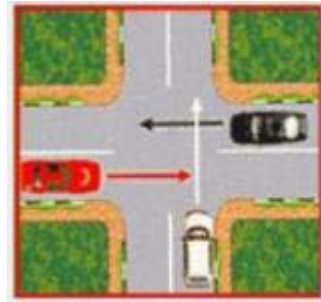
۴- هنگام رانندگی ممنوع می باشد؟

- الف) استعمال دخانیات
- ب) خوردن و آشامیدن
- ج) استفاده از تلفن همراه
- د) همه موارد

۳- در شکل مقابل تقاطع هم عرض می باشد، حق تقدم عبور با کدام

وسیله است؟

- الف) قرمز
- ب) سفید
- ج) مشکی
- د) همه با هم



۶- هنگام رانندگی کدام یک از مدارک زیر را باید به همراه داشته باشیم؟

- الف) کارت اتومبیل، گواهینامه رانندگی
- ب) بیمه شخص ثالث
- ج) برگه معاینه فنی معتبر
- د) همه موارد

۵- کلاچ گرفتن باعث کدام یک از موارد زیر می شود؟

- الف) کنترل راننده به حرکت و سرعت اتومبیل کم میشود.
- ب) کنترل راننده به حرکت و سرعت اتومبیل بیشتر میشود.
- ج) پیچیدن به طرفین و چرخاندن فرمان سخت تر میشود.
- د) پیچیدن به طرفین و چرخاندن فرمان آسان تر میشود.

۸- شما به دنبال یک وسیله نقلیه دیگر بر روی یک جاده ی خیس رانندگی


می کنید، فاصله زمانی بین شما و اتومبیل جلویی چقدر باید باشد؟

- الف) دو ثانیه
- ب) سه ثانیه
- ج) چهار ثانیه
- د) پنج ثانیه


۷- متداولترین نوع پارک در شهرها کدامند؟

- الف) پارک در محل مجاز
- ب) پارک ۳۰ سانتی متر
- ج) پارک دوبل
- د) پارک در پارکینگ

۹- در صورت ترکیدن لاستیک جلوی اتومبیل باید ...


- الف) فرمان را محکم گرفته و به آرامی توقف کرد. 
- ب) به شدت ترمز کرد.
- ج) فرمان را رها کرد.
- د) هیچ کدام

۱۰- چرا باید برای سبقت از یک وسیله طویل فاصله بیشتری با آن حفظ کرد؟


- الف) راحت بتوانیم با سرعت حرکت کنیم.
- ب) بتوانیم جلوی کامیون را ببینیم.
- ج) برای اینکه در نقطه کور قرار نگرفته و راننده کامیون بتواند ما را ببیند.
- د) مورد ب و ج 



۱۱- شما با سرعت ۴۵ کیلومتر در ساعت در یک جاده خشک در حال رانندگی هستید، فاصله شما با اتومبیل جلویی چند طول اتومبیل باید باشد؟


- الف) ۳ طول اتومبیل 
- ب) ۴ طول اتومبیل
- ج) ۵ طول اتومبیل
- د) ۲ طول اتومبیل

۱۲- مفهوم تابلوی زیر چیست؟


- الف) خطوط همگرا
- ب) افزایش خطوط عبور 
- ج) کاهش خطوط عبور
- د) انحراف یکی از خطوط عبور




۱۳- دسترسی در آزاد راه ها چگونه است؟

- الف) از طریق تقاطع ها
- ب) از طریق اولین خروجی
- ج) از طریق پل های هوایی و زیر گذر ها 
- د) تا شهرک یا تقاطع جاده دیگر راهی ندارد.


۱۴- برای خروج از پارک باید؟

- الف) آینه عقب اتومبیل را کنترل کرده و راهنمای سمت چپ را روشن کنیم، سپس سر را به چپ چرخانده با احتیاج به حق تقدم ور از پارک خارج میشویم. 
- ب) با رعایت حق تقدم عبور خارج میشویم.
- ج) راهنما زده و با رعایت حق تقدم عبور خارج میشویم.
- د) راهنما زده و با دست علامت میدهید، سپس با اطمینان از کنار خود از پارک خارج میشویم.

۱۵- خطوط زیگزاگ شکل رو به رو به چه معناست؟

- الف) توقف کامل روی این خطوط آزاد است.
- ب) عبور کردن و ایستادن روی این خطوط ممنوع است. 
- ج) عبور کردن آزاد، اما ایستادن روی آن ممنوع است.
- د) محل پارک اتومبیل ها می باشد.

۱۶- تابلوی (راه لغزنده است) کدام یک از گزینه های زیر می باشد؟

- الف) شکل شماره ۱
- ب) شکل شماره ۲
- ج) شکل شماره ۳
- د) شکل شماره ۴ 



۱۷- چرا رانندگی در شب سخت تر است؟

- الف) محدود بودن حوزه دید راننده
- ب) عدم تشخیص به موقع عابر پیاده
- ج) عدم تشخیص فاصله و سرعت وسایل نقلیه
- د) همه موارد

۱۸- تابلوی زیر به چه معنا می باشد؟

- الف) دور زدن در میدان
- ب) میدان
- ج) تامین حرکت
- د) جهت عبور در میدان



۱۹- تابلوهای بازدارنده را تابلوهای ... نیز می گویند که بیشتر به شکل ...

- با نوار حاشیه ای ... رنگ هستند؟
- الف) انتظامی - دایره - قرمز
- ب) هشدار دهنده - دایره - قرمز
- ج) انتظامی - مثلث - قرمز
- د) هشداردهنده - مثلث - آبی

۲۰- تابلوی زیر به چه معنا می باشد؟

- الف) تقاطع با راه آهن
- ب) تقاطع جاده و راه آهن در ۲۰۰ متری
- ج) خروجی از آزاد راه ۲۰۰ متر
- د) ورودی به آزاد راه ۲۰۰ متر



۲۱- تابلوی رعایت حق تقدم کدام گزینه می باشد؟

- الف) شکل شماره یک
- ب) شکل شماره دو
- ج) شکل شماره سه
- د) شکل شماره چهار

۲۲- برای راه اندازی خودرو راننده در چه مرحله ای بایستی کمربند

- ایمنی را ببندد؟
- الف) در حین حرکت
- ب) پس از روشن کردن موتور خودرو
- ج) قبل از روشن کردن موتور خودرو
- د) نیازی به بستن کمربند ایمنی نمی باشد.



۲۳- گواهینامه رانندگی یک سند رسمی است که تنها به ... نشان داده می شود.

- الف) بازرس اتومبیل
- ب) پلیس ترافیک
- ج) مامور کنترل راه
- د) همه موارد


۲۴- تابلوی راه یک طرفه کدام گزینه می باشد؟

- الف) شکل شماره یک
- ب) شکل شماره دو
- ج) شکل شماره سه
- د) شکل شماره چهار






۲۵- کدام گزینه ها صحیح می باشد؟


- الف) حداقل سرعت در آزاد راه ها ۷۰ و حداکثر سرعت ۱۲۰ کیلومتر در ساعت
- ب) حداکثر سرعت در بزرگراه ها درون شهری ۱۰۰ کیلومتر در ساعت
- ج) حداکثر سرعت در جاده های اصلی ۹۵ کیلومتر در ساعت در شب
- د) حداکثر سرعت در معابر محلی ۳۰ کیلومتر در ساعت 

۲۶- کدام مورد زیر علت تصادف با اتومبیل جلویی است؟


- الف) تغییر نور چراغ ها
- ب) عبور عابر پیاده در مناطق شهری
- ج) شروع ترافیک وسایل نقلیه
- د) عدم توجه کافی به راه نزدیک شدن بیش از حد به اتومبیل جلویی 



۲۷- در برخورد راه اصلی با راه فرعی تقدم عبور با وسیله ای است که ... ؟


- الف) از راه فرعی عبور می کند.
- ب) به سمت راست گردش می کند.
- ج) از راه اصلی عبور می کند. 
- د) تابلو ها - چراغ راهنما - فرمان پلیس - خط کشی

۲۸- مستطیل قائم معمولاً برای تابلو های ... به کار میروند؟

- الف) صرفاً برای رعایت حق تقدم
- ب) معمولاً برای تابلو های دستوری و خدمات 
- ج) راهنما و هشدار برای خطرات
- د) راهنمای مسیر



۲۹- مفهوم تابلوی زیر چیست؟

- الف) عبور کامیون
- ب) مسیر ویژه کامیون
- ج) مسیر توصیه شده برای وسایل سنگین 
- د) عبور کامیون های کم ظرفیت



۳۰- تابلوی زیر یعنی ... ؟

- الف) عبور چرخ دستی
- ب) عبور گاری ممنوع
- ج) عبور خودروی کشاورزی ممنوع
- د) عبور چرخ دستی ممنوع 