


۱- کدام یک از تابلوها به معنای تابلوی جریان همگرا است؟

الف) شکل شماره یک

ب - شکل شماره دو

ج) شکل شماره سه

د) شکل شماره چهار



۲- تابلوی زیر چه مفهومی دارد؟

الف) عبور اطفال

ب) محل عبور دانش آموزان

ج) به مدرسه نزدیک میشوید.

د) مدرسه



۳- تابلوهای هشداردهنده یا ... بیشتر به صورت ... با نور حاشیه ... رنگ

و زمینه ... رنگ می باشد.

الف) خطاری - مثلث - قرمز - سفید

ب) اخباری - دایره - قرمز - آبی

ج) خطاری - مربع - قرمز - سفید

د) انتظامی - پنج ضلعی - قرمز - سفید

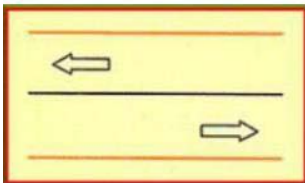
۴- در مورد شکل زیر کدام گزینه صحیح می باشد؟

الف) رانندگان فقط برای سبقت می توانند از آن عبور کنند.

ب) رانندگان به هیچ وجه نبایستی حتی از روی آن عبور کنند.

ج) رانندگان فقط بر روی گردش میتوانند از آن عبور کنند.

د) عبور از این خطوط آزاد می باشد.



۵- در شرایط یخبندان مسافت توقف چند برابر افزایش می یابد؟

الف) ۱۰ برابر

ب) ۵ برابر

ج) ۲ برابر

د) ۱۲ برابر

۶- حداکثر سرعت در خیابانهای شریانی اصلی ... کیلومتر در ساعت و

در خیابان های شریانی فرعی ... کیلومتر در ... ساعت و در معابر محلی ...

کیلومتر در ساعت است.

الف) اصلی ۶۰ - فرعی ۵۰ - محلی ۲۰

ب) اصلی ۵۰ - فرعی ۶۰ - محلی ۳۰

ج) اصلی ۶۰ - فرعی ۵۰ - محلی ۳۰

د) اصلی ۵۰ - فرعی ۶۰ - محلی ۲۰


۷- خطوط در شکل زیر به معنا است؟

الف) تعریض حاشیه خیابان

ب) خطوط پارک

ج) توقف روی خط ممنوع

د) مسیر کانال زیرگذر



۸- شما به دنبال یک وسیله نقلیه دیگر بر روی یک جاده خیس رانندگی

می کنید، فاصله زمانی بین شما و اتومبیل جلویی چقدر باید باشد؟


الف) دو ثانیه

ب) چهار ثانیه


ج) شش ثانیه

د) هشت ثانیه


۹- کدام یک از موارد زیر صحیح است؟

- الف) باز کردن درهای وسیله نقلیه پیش از توقف کامل مجاز نیست. 
- ب) عبور وسایل نقلیه از پیاده روها مجاز است.
- ج) اجازه رانندگی به شخص فاقد گواهینامه مجاز است.
- د) ۲ توقف در ۱۰ متری ورودی بیمارستان ها مجاز است.

۱۰- به هنگام رانندگی در طول روز در شرایط مه آلود چه کاری باید انجام


- دهید؟
- الف) از نور بالا استفاده کنید.
- ب) چراغ راهنما را روشن کنید.
- ج) چراغ بغل را روشن کنید.
- د) از نور پایین استفاده کنید. 

۱۱- مفهوم تابلوی زیر چیست؟


- الف) خط عبور برای گریز 
- ب) راه مستقیم بسته است.
- ج) عبور اجباری از راه فرعی
- د) گریز از مسیر محدود




۱۲- موثر ترین عضو بدن در رانندگی کدام است؟

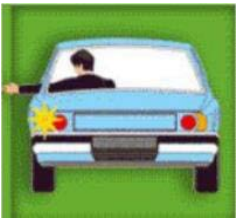
- الف) دست ها
- ب) پاها
- ج) چشمها 
- د) قلب

۱۳- از روشن شدن موتور و آماده بودن برای حرکت ابتدا باید کدام عمل را انجام داد؟

- الف) ترمز پایی را چند بار فشار دهیم تا از سلامت ترمز پایی مطمئن شویم.
- ب) در حالی که با پای راست ترمز گرفته ایم با پای چپ کلاچ را فشار دهیم.
- ج) ترمز دستی را خلاص کنیم.
- د) ابتدا کمر بند ایمنی خود را ببندید و مطمئن شوید که سرنشینان نیز کمر بند ایمنی را بسته اند. 

۱۴- طبق تصویر زیر راننده چه کاری می خواهد انجام دهد؟

- الف) می خواهد به راست گردش کند.
- ب) می خواهد مستقیم حرکت کند.
- ج) می خواهد گردش به چپ انجام دهد. 
- د) می خواهد بایستد.




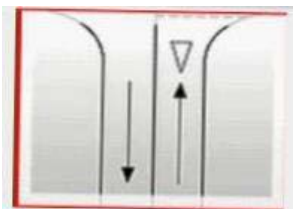
۱۵- منظور ان این علامت پلیس راهنمایی چیست؟

- الف) عبور از دو طرف آزاد
- ب) هدایت اتومبیل ها به طرفین جهت روان تر شدن ترافیک
- ج) وسایل نقلیه ای که در امتداد مسیر دست های مامور نشان داده می شود اجازه حرکت ندارند (ایست نمایند) 
- د) علامت ایست برای اتومبیل های مقابل و دستور حرکت برای اتومبیل های پشت



۱۶- مفهوم خطوط منقطع زیر چیست؟

- الف) رانندگان باید توقف کامل نمایند و سس با رعایت احتیاط عبور کنند.
- ب) رانندگان از سرعت خود کم کرده و با احتیاط و رعایت حق تقدم عبور کنند. 
- ج) رانندگان سرعت خود را کاهش داده و به راست گردش کنند.
- د) رانندگان با سرعت و رعایت حق تقدم عبور کنند.



۱۷- تابلو زیر به چه معناست؟

- الف) فقط عبور مستقیم مجاز
- ب) خیابان یک طرفه
- ج) راه یک طرفه
- د) فقط عبور به راست مجاز



۱۸- به هنگام ترکیدن لاستیک کدام مورد را باید انجام داد؟

- الف) دنده را تعویض کرده و سس ترمز کنید.
- ب) ترمز کرده و سریع متوقف کنید.
- ج) فرمان را به شدت و محکم بگیرید و اجازه دهید اتومبیل خود به خود متوقف شود.
- د) فرمان را شل بگیرید و محکم ترمز کنید.

۱۹- در شکل زیر حق تقدم عبور با کدام وسیله می باشد؟

- الف) قرمز
- ب) مشکی
- ج) سفید
- د) سفید و مشکی



۲۰- تابلوی زیر یعنی ...؟

- الف) رعایت حق تقدم
- ب) ایست
- ج) توقف ممنوع
- د) ورود ممنوع



۲۱- تابلوی زیر یعنی ...؟

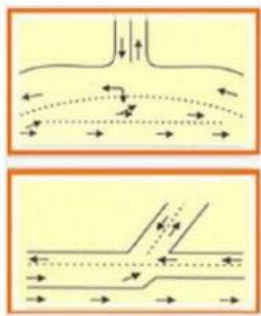
- الف) سبقت ممنوع
- ب) پایان سبقت ممنوع
- ج) عبور سواری ممنوع
- د) توقف ممنوع



۲۲- بخش وسط در راه هایی که به وسیله خط کشی یا علائم دیگر به سه

بخش تقسیم شده است، چه مفهومی دارد؟

- الف) سبقت گرفتن
- ب) گردش به چپ
- ج) سبقت و گردش به چپ
- د) سبقت و گردش به راست



۲۳- تابلوی توقف ممنوع کدام گزینه می باشد؟

- الف) شکل شماره ۱
- ب) شکل شماره ۲
- ج) شکل شماره ۳
- د) شکل شماره ۴



۲۴- تابلوی عبور وسایل نقلیه موتوری ممنوع کدام گزینه می باشد؟

- الف) شکل شماره ۱
- ب) شکل شماره ۲
- ج) شکل شماره ۳
- د) شکل شماره ۴



۲۵- در چند متری تقاطع ها نباید توقف نمود؟

- الف) ۱۵ متری
- ب) ۲۰ متری
- ج) ۲۵ متری
- د) ۳۰ متری

۲۶- کدام گزینه نسبت به گزینه های دیگر در اولویت میباشد؟

- الف) فرمان پلیس
- ب) چراغ راهنما
- ج) خط کشی
- د) تابلو ها

۲۷- بیشترین نوع آلودگی وسایل نقلیه موتوری کدام است؟

- الف) آلودگی هوا
- ب) آلودگی شنیداری
- ج) آلودگی دیداری
- د) آلودگی

۲۸) حداقل فاصله مناسب از جدول هنگام پارک ... ؟

- الف) نیم متر از جلو - یک متر از عقب - ۴۰ سانتیمتر از جدول
- ب) یک متر از جلو - نیم متر از عقب - ۴۵ سانتیمتر از جدول
- ج) یک متر از جلو - یک متر از عقب - ۴۰ سانتیمتر از جدول
- د) یک متر از جلو - یک متر از عقب - ۴۰ سانتیمتر از جدول

۲۹- تابلوی زیر چه نام دارد؟

- الف) راه لغزنده
- ب) پرتاب سنگ
- ج) شانه خطرناک
- د) دست انداز

۳۰- تابلوی زیر چه مفهومی دارد؟

- الف) گذرگاه پیاده
- ب) گذرگاه عابر پیاده
- ج) عبور اطفال
- د) فقط عبور پیاده

