

سوال ۱. کدام یک از فرمان های زیر برای تکرار یک عمل به کار می رود؟

۱. Edit - Repeat

۲. Edit - Undo

۳. Edit - Redo

۴. Edit - Delete

سوال ۲. در هنگام ترکیب دو شیء با استفاده از دستور **Combine** چه اتفاقی رخ می دهد؟

۱. فضای مشترک دو شیء با رنگ شیء بالایی پر می شود.

۲. فضای مشترک دو شیء از بین می رود.

۳. فضای مشترک دو شیء با رنگ شیء زیرین پر می شود.

۴. فقط فضای مشترک دو شیء حفظ شده و بقیه قسمت ها از بین می روند.

سوال ۳. توسط کدام یک از مسیرهای زیر می توان به صورت خودکار از شکست سیلاب ها در متن پاراگراف استفاده نمود؟

۱. Optional Hyphen<Insert Formatting Code<Text

۲. کلیدهای Ctrl+-

۳. Use Hyphenation<Text

۴. Custom Optional Hyphens<Insert Formatting Codes<Text

سوال ۴. در کدام یک از نوارهای زیر، اطلاعاتی در مورد اشیای انتخاب شده مانند رنگ، نوع زمینه، موقعیت مکان نما و ... نمایش داده می شود؟

۱. Standard


۲. Status Bar

۳. Property Bar

۴. Menu Bar

سوال ۵. کدام یک از ابزارهای زیر برای رسم منحنی به کار می رود؟


۱. Pen 


۲. Spiral 


۳. Polygon 


۴. Star 

سوال ۶. برای انتخاب کلیه اشیاء موجود در صفحه از کدام روش زیر استفاده می گردد؟

۱. دابل کلیک روی ابزار Pick 

۲. دابل کلیک روی ابزار pick 

۳. دابل کلیک روی Property 

۴. گزینه های الف و ب 

سوال ۷. برای گرد کردن گوشه های یک چهار ضلعی از کدام گزینه در Property Bar استفاده می شود؟

۱. Corner Roundness 

۲. Corner 

۳. Angle Of Rotation 

۴. Rotation 

سوال ۸. جلوه ..... تصویر رابه یک نقاشی آبرنگ تبدیل می کند؟


۱. Water Marker 

۲. Wave Paper 


۳. Watercolor 


۴. Sketch Pad 

سوال ۹. به تصاویر تشکیل شده از شبکه ای از نقاط یا پیکسل ها تصاویر ... گویند.

۱. برداری 


۲. Vector 

۳. Bitmap 


۴. هندسی 

سوال ۱۰. کدام ابزار برای ترسیم خط حساس به فشار به کار می رود؟


۱. Calligraphic 


۲. Preset 


۳. Pressure 


۴. Spray 

سوال ۱۱. برای زیر خط دار کردن متن انتخاب شده از کلید ..... استفاده می شود.


۱. Ctrl + E 


۲. Ctrl + B 


۳. Ctrl + U 


۴. Ctrl + I 

سوال ۱۲. کدام کلیدها برای گروه بندی اشیا مورد استفاده قرار می گیرد؟


۱. Ctrl+K 


۲. Ctrl+U 


۳. Ctrl+G 


۴. Ctrl+L 

سوال ۱۳. انتخاب گزینه **Export This Page Only** در کادر محاوره ای **Export**:

۱. فقط صفحه جاری را صادر می کند. 

۲. فاصله خالی در نام فایل را با خط زیر جایگزین می کند. 

۳. فقط اشیا انتخاب شده در طراحی فعال را ذخیره می کند. 

۴. فایل را در حین صدور فشرده سازی می کند. 

سوال ۱۴. کدامیک از وضعیت‌های **Rollover** پس از کلیک روی آن فعال می‌شود؟

Normal .۱

Over .۲

Down .۳

Easy .۴

سوال ۱۵. با استفاده از کدام حالت **Envelope** می‌توان کمانی به شکل S در یک یا چند ضلع شیء قرار داد؟

Envelope Straight Line Mode .۱

Envelope Single Arc Mode .۲

Envelope Double Arc Mode .۳

Envelope Unconstrained Mode .۴

سوال ۱۶. دکمه **Zoom in** کدام عمل زیر را انجام می‌دهد؟

۱. تصویر را ۲ برابر میکند

۲. تصویر را نصف میکند

۳. تصویر را ۴ میکند

۴. تصویر را با اندازه دلخواه بزرگ میکند

سوال ۱۷. کدام یک از گزینه‌های زیر با تغییر ابزار تغییر پیدا می‌کند؟

Standard Bar .۱

Toolbar .۲

Toolbox .۳

Property Bar .۴

سوال ۱۸. کدام یک از پرکننده‌های زیر برای ایجاد بافت و تعیین جنس اشیا استفاده می‌شود؟


Uniform Fill .۱


FountainFill .۲


Texture Fill .۳ 


Pattern Fill .۴ 

سوال ۱۹. با استفاده از دکمه **Tiling** در کادر **Texture Fill** می توان:


۱. نوع بافت شیء را تعیین کرد. 


۲. رنگ مربوط به بافت را تغییر داد. 


۳. اندازه بافت را تغییر داد. 


۴. بافت جدید ایجاد کرد. 

سوال ۲۰. برای اینکه از یک تصویر در **Background** استفاده کنیم چه باید کرد؟

۱. باید از منوی **Layout** گزینه **page background** را انتخاب کرد 

۲. باید از منوی **Effect** گزینه **Page background** را انتخاب کرد 

۳. باید از منوی **Layout** گزینه **page setup** را انتخاب کرد 


۴. باید از منوی **Effect** گزینه **page setup** را انتخاب کرد 

سوال ۲۱. کدام ابزار برای کوچک نمایی یا بزرگ نمایی تصویر استفاده می شود؟

۱. **Pan** 

۲. **Pick** 

۳. **Hand** 


۴. **Zoom** 

سوال ۲۲. نگه داشتن کدام کلید حین رسم، باعث رسم مشبک با سلول های مربع شکل می گردد؟

۱. **Alt** 

۲. **Shift** 

۳. **Ctrl** 

۴. **Space** 

سوال ۲۳. کلید میانبر برای انتخاب ابزار Shape چیست؟

۱. F10

۲. F9

۳. F8

۴. Ctrl+S

سوال ۲۴. کدام یک از گزینه های زیر صحیح می باشد؟

۱. برای انتقال شیء به لایه دیگر می توان از فرمان Order استفاده کرد.

۲. زمانی که اشیا را از لایه ها انتقال می دهید لایه نباید قفل شده باشد.

۳. برای تبدیل یک لایه به لایه اصلی، باید پس از کلیک راست بر روی نام گزینه Master را کلیک نمود.

۴. همه موارد

سوال ۲۵. هنگام کار با Shape Tool برای از بین بردن یک گره چه می کنیم؟

۱. روی گره مورد نظر راست کلیک می کنیم

۲. گره را به کناری می کشیم

۳. روی گره دوبار کلیک می کنیم

۴. کلید Enter را می زنیم.

سوال ۲۶. برای بستن یک سند کاری از کدام گزینه استفاده می شود؟

۱. File - Exit

۲. Alt+F4

۳. Window - Close

۴. File - Close All

سوال ۲۷. .... منطقه ای مستطیل شکل و قابل چاپ در داخل پنجره طراحی است.

۱. پالت رنگ

۲. صفحه طراحی

۳. نوار ابزار

۴. منوی چفت شده

سوال ۲۸. در این روش رنگ آمیزی که به آن رنگ منفرد ( تک رنگ ) نیز می گویند فقط یک رنگ مورد استفاده قرار میگیرد .

۱. Pattern

۲. Uniform

۳. بافتی

۴. الگویی

سوال ۲۹. برای جابجا کردن گره هایی که در دایره یا مربع و یا ..... که توسط ابزارهای کرل ، آماده وجود دارد و چه باید کرد ؟

۱. اول باید شکل را Convert to curve کنیم

۲. اول باید شکل را Group کنیم

۳. از ابزار Shape tool استفاده کنیم

۴. هیچکدام

سوال ۳۰. برای اعمال رنگ نمونه بر روی یک شیء از کدام ابزار استفاده می شود؟

۱. Paint Bucket

۲. Eyedropper

۳. Shape

۴. Fountain Fill Dialog

سوال ۳۱. جهت چرخش افقی از کدام گزینه استفاده می شود؟

۱. Rotate Horizontal 90

۲. Rotate Vertical 90

۳. Mirror Horizontal

۴. Mirror Vertical

سوال ۳۲. برای تنظیم فاصله بین خطوط در ابزار CONTOUR از کدام گزینه استفاده می شود؟

۱. Contour Steps

۲. Contour Inside

۳. Contour Slide

۴. Contour Offset

سوال ۳۳. برای کشیدن خطوط مارپیچ از چه کلیدی استفاده می کنیم؟

۱. F

۲. A

۳. C

۴. D

سوال ۳۴. توسط کدام گزینه می توان فصل مشترک بین دو یا چند شی را بازسازی نمود؟

۱. Trim

۲. Intersect

۳. Weld

۴. Simplify

سوال ۳۵. در این نوع از شیب رنگ ، سایه روشن ایجاد شده روی یک مخروط تداعی می شود؟

۱. Square

۲. Radial

۳. Conical

۴. Linear

سوال ۳۶. بر روی کدام یک از متن های زیر می توان جلوه های ویژه مانند سایه و ... اعمال کرد؟

۱. متن پاراگراف

۲. Paragraph Text



۳. متن معمولی

۴. متن هنری

سوال ۳۷. برای حذف مناطق ناخواسته از اشیا از کدام ابزار استفاده می شود؟

۱. Hand

۲. Bezier

۳. Knife

۴. Crop

سوال ۳۸. برای خط چین رسم شدن یک مسیر کدام گزینه را تنظیم می کنیم؟

۱. Fill Color

۲. Transformation

۳. Outline

۴. Combine

سوال ۳۹. انتخاب کدام گزینه تصویر را به اندازه کل صفحه بزرگ نمایی می کند؟

۱. Zoom to page

۲. Zoom Out

۳. Zoom to all Objects

۴. Zoom to Selected

سوال ۴۰. کدام یک از گزینه های زیر، توابعی را نشان می دهد که مرتبط با ابزار فعال یا وظیفه در حال اجرا می باشد؟

۱. Standard

۲. Property Bar

۳. Menu Bar

۴. Toolbox

پایان آزمون!